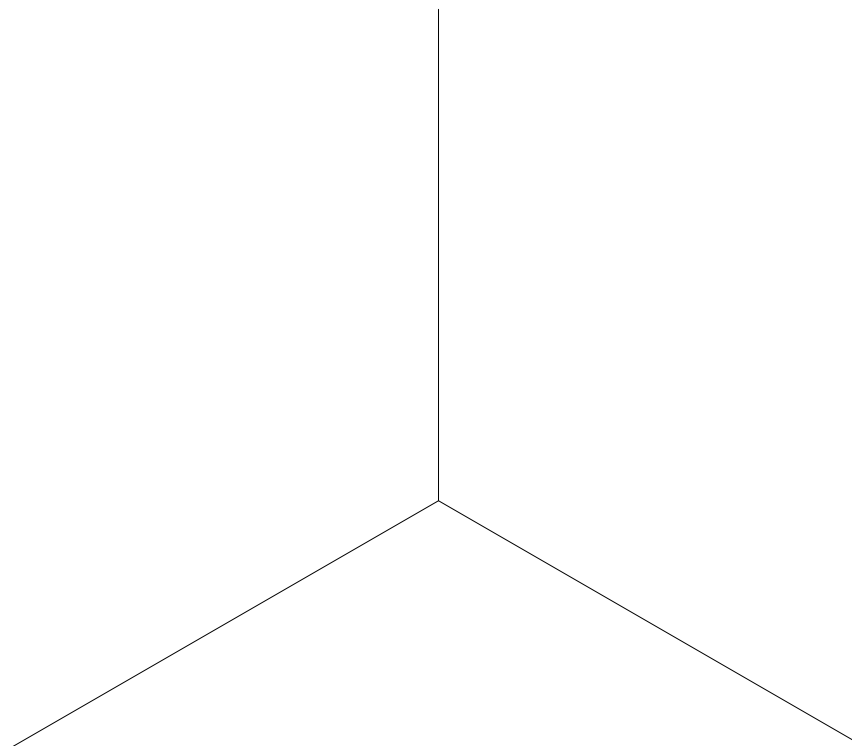
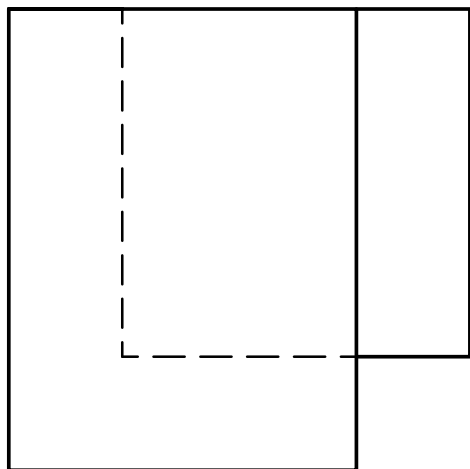
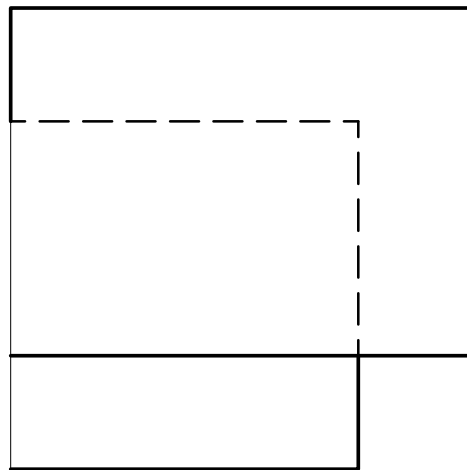
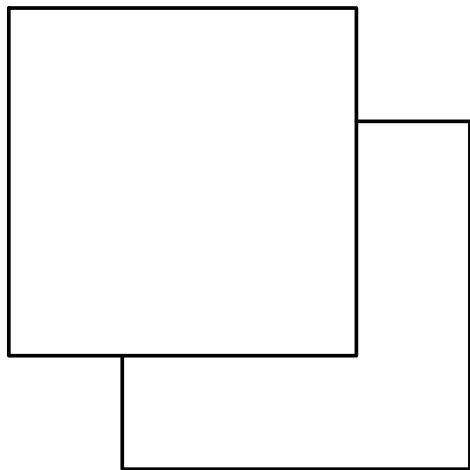


EJERCICIO 1.- Dibuja a escala E=1:1 sin tener en cuenta los coeficientes de reducción (es decir tomando  $K_x=K_y=K_z=1$ ) una perspectiva isométrica de la pieza definida por sus vistas diédricas.  
2.- Dibujar también (a la misma escala) las vistas diédricas de una pieza que encajada con la dada complete el cubo de 60 mm de lado (pieza complementaria).  
3) Disponer las vistas pedidas de modo que se correspondan con las de la pieza dato.



	PASO DIÉDRICO ISOMÉTRICO	
NOMBRE:		Nº:
APELLIDOS:		